


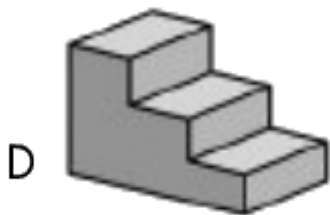
UNIDAD 10

Matemáticas



Nombre y apellidos:

Curso: Fecha:

- Observa las ilustraciones e indica qué tipos de líneas asignarías a cada una.



- Completa la tabla



LÍNEA	TIPO DE LÍNEA
A	Línea quebrada cerrada
B	
C	
D	
E	