

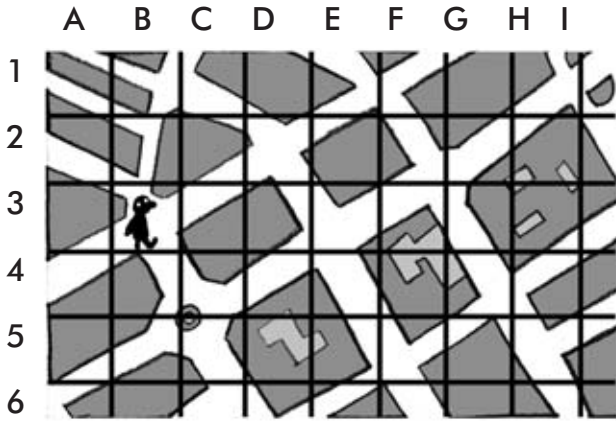
UNIDAD 8

Conocimiento del Medio

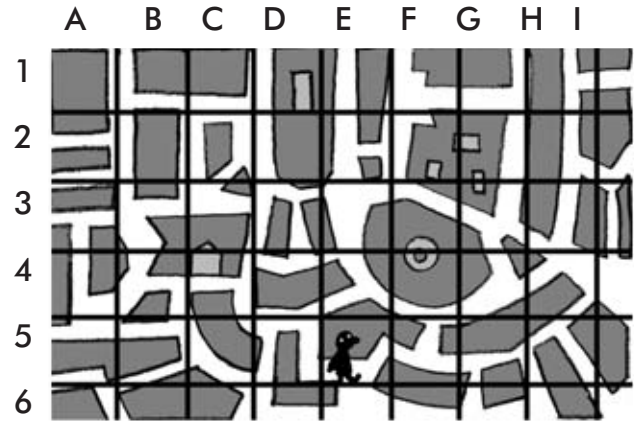
Nombre y apellidos:

Curso: Fecha:

● Localiza en qué casillas de estos planos se encuentra el dibujo de la persona.



.....

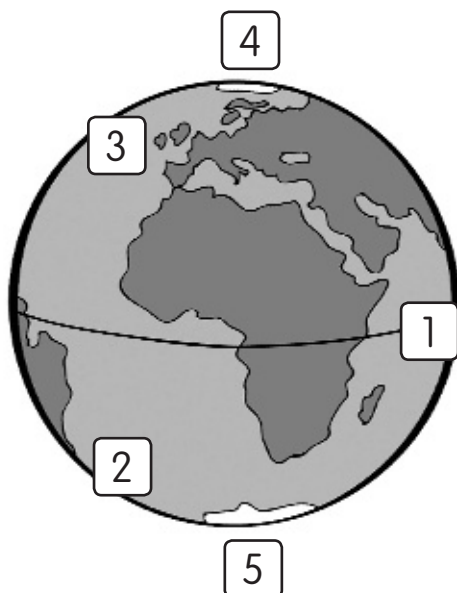


.....

● Tacha las actividades que no sean hechas por los satélites artificiales.

- Evitar que la luz del Sol llegue a la Tierra.
- Mejorar el funcionamiento de la comunicación entre distintos lugares de la Tierra.
- Provocar lluvia artificial.
- Evitar que caigan meteoritos.
- Enviar fotografías de la superficie de la Tierra.
- Informar sobre el tiempo meteorológico.

● Observa el dibujo y escribe el número que corresponda delante de cada palabra.



- Hemisferio norte
- Polo norte
- Ecuador
- Hemisferio sur
- Polo sur