

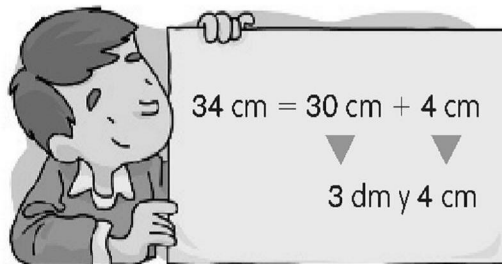
UNIDAD 8

Matemáticas

Nombre y apellidos:

Curso: Fecha:

● Expresa en decímetros y centímetros. Fíjate en cómo lo hace Miguel.




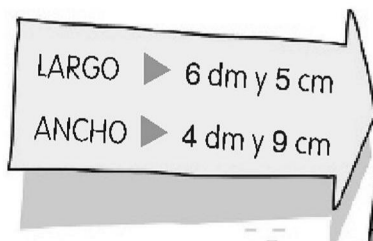
● 29 cm = cm + cm =
 = dm y cm

● 53 cm = cm + cm =
 = dm y cm

● 47 cm = cm + cm =
 = dm y cm

● 89 cm = cm + cm =
 = dm y cm

● Lee y resuelve.



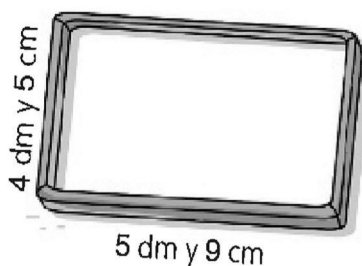
- Celia ya ha terminado su puzle. ¿Cuántos centímetros de largo más que de ancho mide?

SOLUCIÓN _____

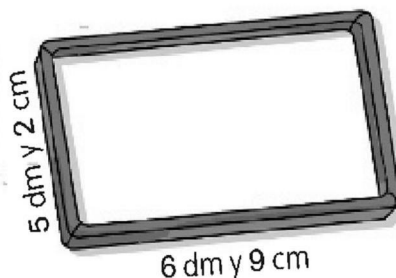
- Celia ha decidido que va a ponerle un marco. ¿Cuántos centímetros de listón necesita?

SOLUCIÓN _____

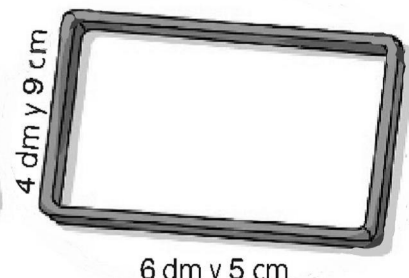
- Calcula el largo y el ancho en centímetros de cada marco, y rodea el que ha elegido Celia.



Largo = ____ cm
 Ancho = ____ cm



Largo = ____ cm
 Ancho = ____ cm



Largo = ____ cm
 Ancho = ____ cm