

UNIDAD 9

Matemáticas


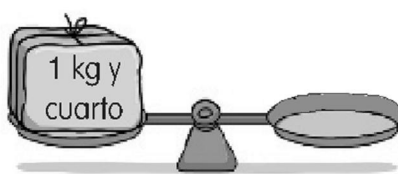
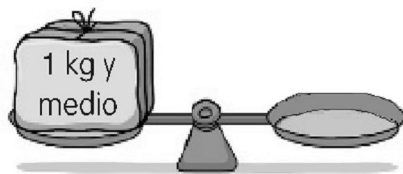
Nombre y apellidos:

Curso: Fecha:

- Dibuja en cada platillo las pesas necesarias para equilibrar cada balanza.

RECUERDA

1 kg Medio kilo Cuarto de kilo



- Lee y resuelve.

PLÁTANOS: 1 kg ► 2 €
 FRESAS: 1 cuarto de kg ► 90 céntimos
 MANZANAS: 2 kg y medio ► 5 €



- ¿Cuánto cuesta 1 kg y medio de plátanos?

SOLUCIÓN _____

- ¿Cuánto cuesta 1 kg y cuarto de fresas?

1 kilo y cuarto = 5 cuartos de kilo

SOLUCIÓN _____

- Eva compra 1 kg de plátanos, medio kilo de fresas y 2 kg y medio de manzanas. ¿Cuántos kilos de fruta compra? ¿Cuánto pagará en total?

SOLUCIÓN _____

- Ricardo compra 1 kg y medio de plátanos, 1 kg y medio de fresas y 5 kg de manzanas. ¿Cuántos kilos de fruta compra? ¿Cuánto paga por esta compra?

SOLUCIÓN _____