

UNIDAD 9

Matemáticas

Nombre y apellidos:

Curso: Fecha:

● Completa.

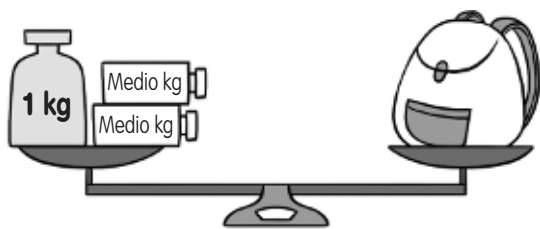
¿Cuántos medios kilos son?

- 6 kilos ▶ _____ medios kilos.
- 1 kilo y medio ▶ _____ medios kilos.
- 2 kilos y medio ▶ _____ medios kilos.

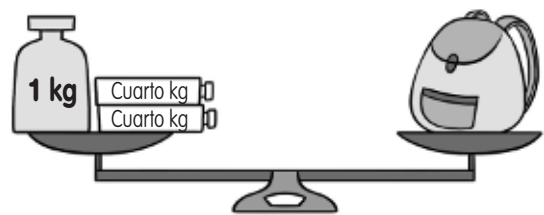
¿Cuántos cuartos de kilo son?

- 5 kilos ▶ _____ cuartos de kilo.
- 2 kilos y cuarto ▶ _____ cuartos de kilo.
- 3 kilos y medio ▶ _____ cuartos de kilo.

● ¿Cuánto pesa cada mochila? Observa las balanzas y completa.




La mochila pesa _____ g



La mochila pesa _____ g

● Calcula cuántos gramos pesa cada fruta.



_____ g



_____ g