

UNIDAD 9

Matemáticas

Nombre y apellidos:


Curso: Fecha:

- Si la capacidad de estos cuatro recipientes es de 7 litros, ¿qué capacidad tiene el último recipiente? Calcula.



- Lee y resuelve.

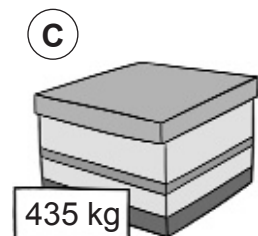
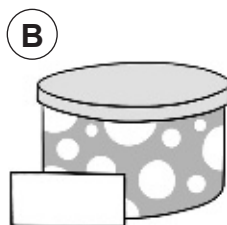
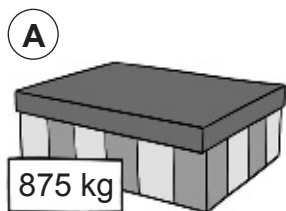
Dani bebe cada día 4 vasos de leche de un cuarto de litro cada uno. ¿Cuántos litros de leche bebe en una semana?



- ¿Cuántos gramos son? Calcula.

- 3 kilos y medio ► _____ g
- 1 kilo y cuarto ► _____ g
- 2 kilos y medio ► _____ g
- Medio kilo ► _____ g

- Calcula el peso de la caja B si en total las tres cajas pesan 2 kilos.



- Lee y resuelve.

Alba lleva en una bolsa 2 paquetes de arroz de 1.000 g cada uno, una piña de 650 g y una tarrina de nata de 350 g. ¿Cuántos kilos pesa la bolsa de Alba?

