

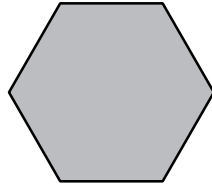
UNIDAD 11

Matemáticas

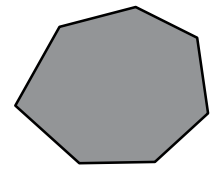
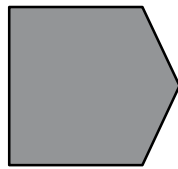
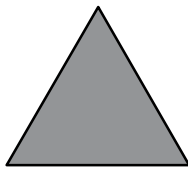
Nombre y apellidos:

Curso: Fecha:

- Señala sobre este polígono sus ángulos, sus lados y sus vértices:




- Nombra cada polígono según su número de lados.




.....

- Traza un diámetro y un radio en esta circunferencia:

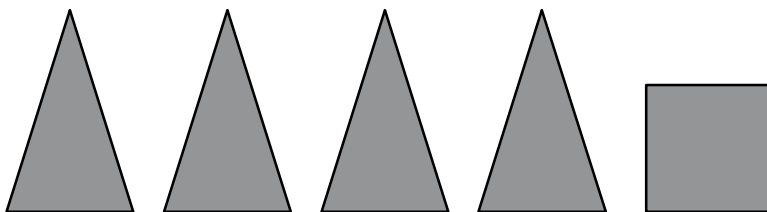


- ¿A qué polígono corresponde esta descripción? Dibújalo:

Tiene cuatro vértices, cuatro lados iguales y cuatro ángulos iguales.



- ¿Qué cuerpo geométrico se puede formar al unir estas caras?



.....

¿Cuántos vértices tiene ese cuerpo? ¿Y aristas?