

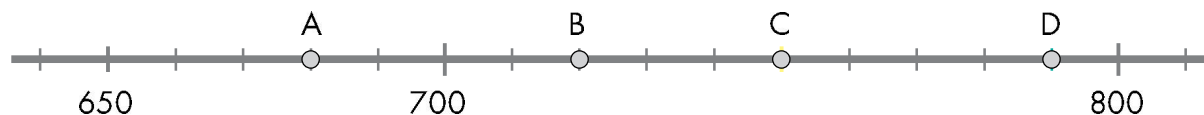
# UNIDAD 1

## Matemáticas

Nombre y apellidos: .....


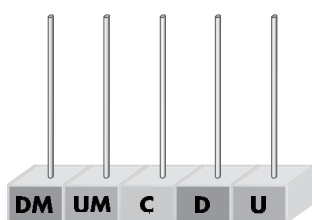
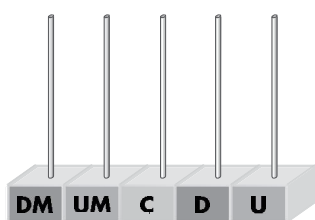
Curso: ..... Fecha: .....

1 ¿Qué número representa cada letra?



A = ..... B = ..... C = ..... D = .....

2 Representa en los ábacos estos números: 20368; 53010; 40079.



3 Completa.

7 C = ..... U

9 UM = ..... C = .....

3 DM = ..... U

5 DM = ..... UM = .....

4 Indica el valor que tiene la cifra 2 en cada uno de estos números:

201 → .....

3 029 → .....

27 047 → .....

5 Con estas pistas, adivina de qué número se trata:

- Es mayor que siete mil y menor que ocho mil.
- La suma de sus cuatro cifras es 21.
- La cifra de las centenas es 4.
- La cifra de las unidades es una unidad mayor que la cifra de los millares.

.....

6 Completa con >, < o =.

2597 ○ 2579

1 DM + 4 UM + 8 D ○ 14080

23500 ○ 23510

22000 + 200 ○ 22022

39708 ○ 39807

3 UM + 7 D ○ 3700