

UNIDAD 5

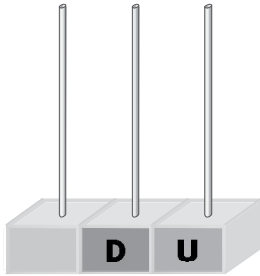
Matemáticas

EV

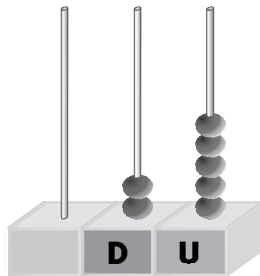
Nombre y apellidos:

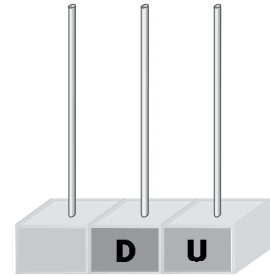
Curso: Fecha:

● Completa y escribe cómo se leen los números.



26








22

| | | |
|--|--|--|
| | | |
| | | |

● Colorea así:

cabe más → verde

cabe menos → amarillo



● Completa las sumas y las restas.

$$\begin{array}{r} 6 \\ + \square \\ \hline 8 \end{array}$$

$$\begin{array}{r} 7 \\ - 2 \\ \hline \square \end{array}$$

$$\begin{array}{r} 4 \\ + 3 \\ \hline \square \end{array}$$

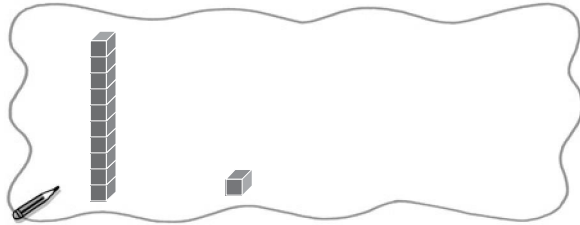
$$\begin{array}{r} 8 \\ - \square \\ \hline 6 \end{array}$$

$$\begin{array}{r} \square \\ + 4 \\ \hline 8 \end{array}$$

Nombre y apellidos:

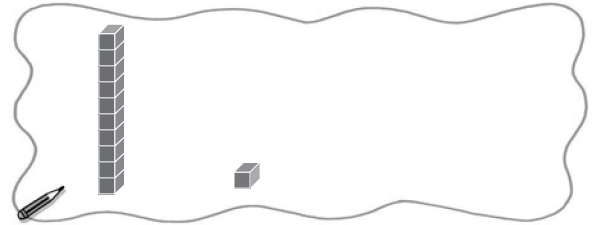
Curso: Fecha:

- Completa y escribe cómo se leen los números.



28

| |
|--|
| |
| |



27

| |
|--|
| |
| |

- Colorea las bolas como se indica y resuelve.
En el árbol hay 5 bolas rojas y 4 amarillas. ¿Cuántas bolas hay en total?



$$\square \bigcirc \square = \square$$

Hay \square bolas.

- Rodea en cada caso lo que pese menos:

cubo - contenedor
papelera

bañera - lavabo
piscina