

UNIDAD 1

Matemáticas

Nombre y apellidos:
Curso: www.primerodecarlos.blogspot.com **Fecha:**

● Escribe los números y cómo se leen.

3 D y 2 U → →

3 D y 8 U → →

3 D y 5 U → →


● Une:



Las 4 y media.

Las 5 en punto.

Las 3 en punto.



● Coloca y suma:

$24 + 11$

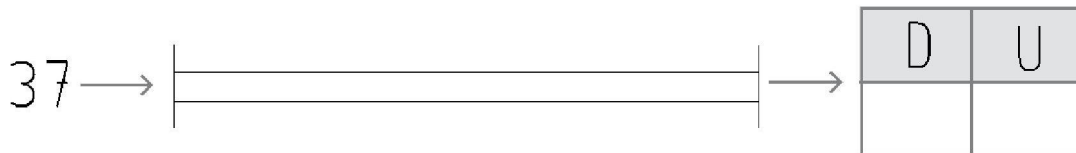

$16 + 12$

$22 + 15$

Nombre y apellidos:

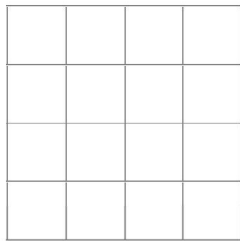
Curso: www.primerodecarlos.blogspot.com Fecha:

- Escribe los nombres y completa.



- Calcula y rodea la respuesta correcta.

En el prado hay 22 cabras y llegan 13 más.
¿Cuántas cabras hay en total?




Hay 33 cabras.

Hay 35 cabras.

Hay 37 cabras.

- Dibuja las horas que se indican.

Una hora
antes.



Las 5
en punto.



Una hora
después.

