

UNIDAD 1

Matemáticas

EV

Nombre y apellidos:

Curso: www.primerodecarlos.blogspot.com Fecha:

● Escribe los números y sus nombres.

8 D y 3 U:

8 D y 5 U:

8 D y 7 U:

● Coloca y realiza.

$56 + 25$


$75 - 32$

$47 + 25$

● Dibuja.

Un cisne dentro del lago y un pato fuera.

Un perrito cerca de la fuente y un gato lejos.



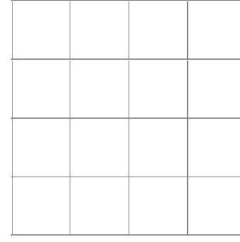
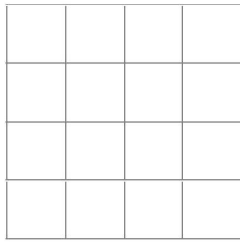
Nombre y apellidos:

Curso: www.primerodecarlos.blogspot.com

Fecha:

● Problema.

Carla tiene 38 cromos. Si su tía le regala 15, ¿cuántos cromos tiene ya? Le da a su amiga Irene 12 cromos repetidos. ¿Cuántos cromos le quedan al final?



Ya tiene cromos.

Al final le quedan cromos.

● Rodea a los animales de la fila como se indica:

2.º
azul

7.º
rojo

3.º
verde

9.º
naranja

4.º
negro

