

# UNIDAD 2

## Matemáticas



**Nombre y apellidos:** .....

**Curso:** [www.primerodecarlos.blogspot.com](http://www.primerodecarlos.blogspot.com)      **Fecha:** .....

● **Completa.**

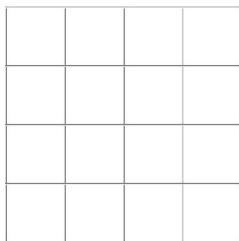
9 D y 1 U →  →

D y  U → 93 →

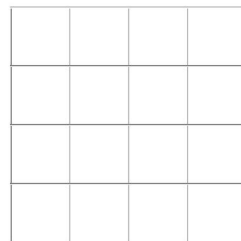
D y  U →  → noventa y nueve

● **Coloca y realiza.**

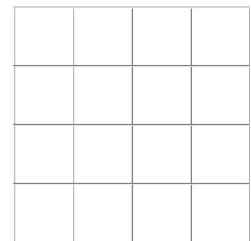
$5 + 2 + 7$



$7 + 3 + 4$



$12 + 5 + 6$

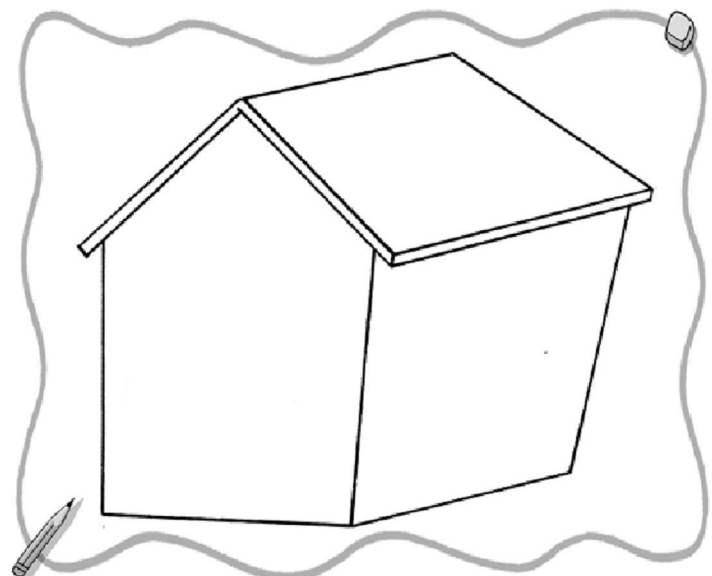


● **Completa el dibujo como se indica.**

Unas ventanas, con líneas curvas.

Una puerta, con líneas rectas.

Una chimenea, con líneas curvas y rectas.

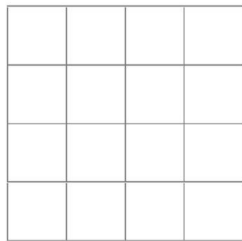


Nombre y apellidos: .....

Curso: [www.primerodecarlos.blogspot.com](http://www.primerodecarlos.blogspot.com) Fecha: .....

● Problema.

El jardinero regó 5 chopos, 6 sauces y 12 pinos. ¿Cuántos árboles regó en total?



El jardinero regó  árboles en total.

● Escribe el número anterior y el posterior.

← 94 →

← 95 →

← 69 →

← 40 →

← 86 →

← 98 →

● Colorea el dibujo y subraya la oración verdadera.

Son líneas curvas abiertas.

Son líneas curvas cerradas.

Son líneas rectas.

