

UNIDAD 3

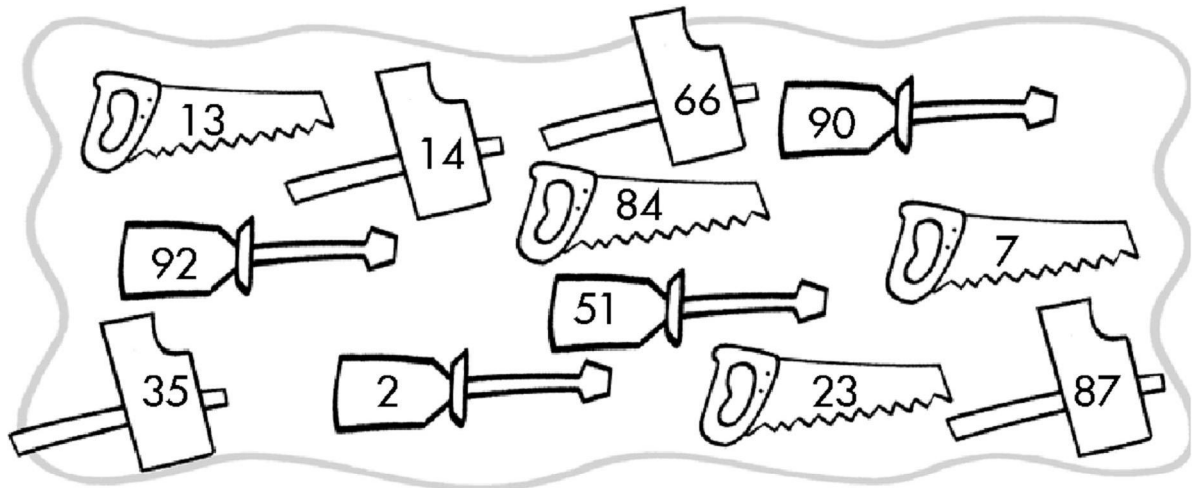
Matemáticas

EV

Nombre y apellidos:

Curso: www.primerodecarlos.blogspot.com Fecha:

● Clasifica los números de las herramientas.



Pares:

Impares:

● Coloca y realiza.

$57 + 34$

$68 + 22$

$49 + 36$

$95 - 52$

$83 - 41$

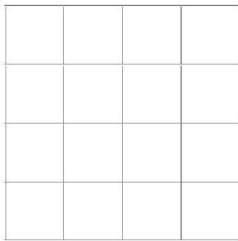
$77 - 65$

Nombre y apellidos:

Curso: www.primerodecarlos.blogspot.com **Fecha:**

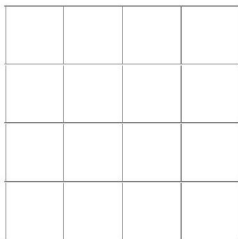
● Problema.

- En las fiestas de una calle ponen 54 bombillas rojas y 39 verdes. ¿Cuántas bombillas ponen en total?



Ponen bombillas.

- Si al final de las fiestas se funden 12 bombillas, ¿cuántas bombillas funcionan todavía?



Funcionan bombillas.

- Repasa de verde las líneas poligonales abiertas y colorea de rojo el interior de las líneas poligonales cerradas.

