

UNIDAD 4


Matemáticas


EV


Nombre y apellidos:


Curso: www.primerodecarlos.blogspot.com Fecha:

● Escribe los números formados por:

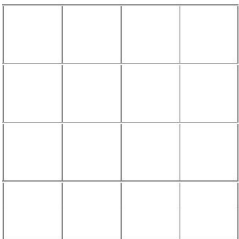
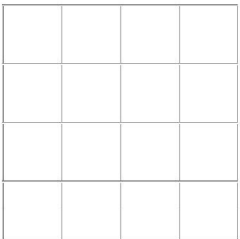


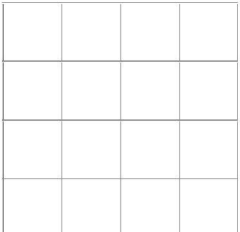

2 D y 4 U → 

5 D y 9 U → 

7 D y 6 U → 

9 D y 8 U → 

● Coloca y realiza.

$57 + 34$	$68 + 22$	$49 + 36$
		
$98 - 52$	$83 - 41$	$77 - 65$
		

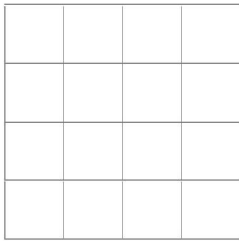
● Escribe los números impares que hay entre el ocho y el veintiséis.

Nombre y apellidos:

Curso: www.primerodecarlos.blogspot.com **Fecha:**

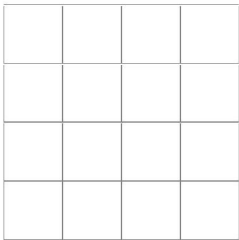
● Problema.

- En las fiestas de un pueblo ponen 97 guirnaldas. Al pasar, un camión, sin querer, arranca 25. ¿Cuántas guirnaldas quedan?



Quedan guirnaldas.

- Al día siguiente, el Ayuntamiento coloca 27 guirnaldas nuevas. ¿Cuántas guirnaldas hay ahora en total?



Ahora hay guirnaldas.

- Colorea los triángulos de rojo, y los cuadriláteros, de azul.

