

UNIDAD 5

Matemáticas

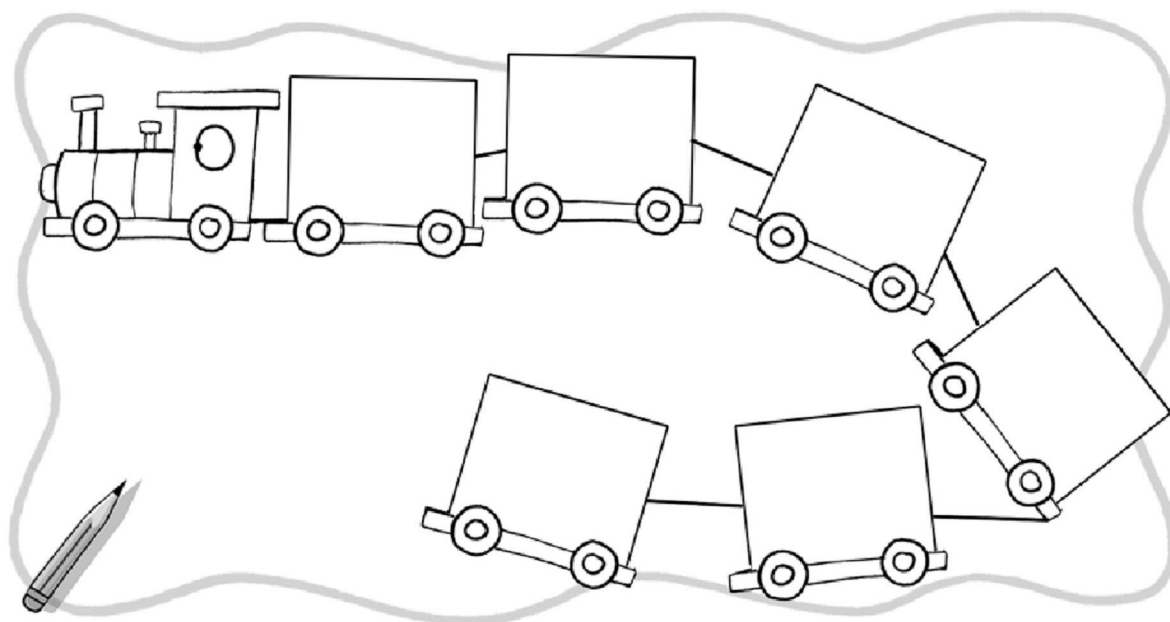
EV

Nombre y apellidos:

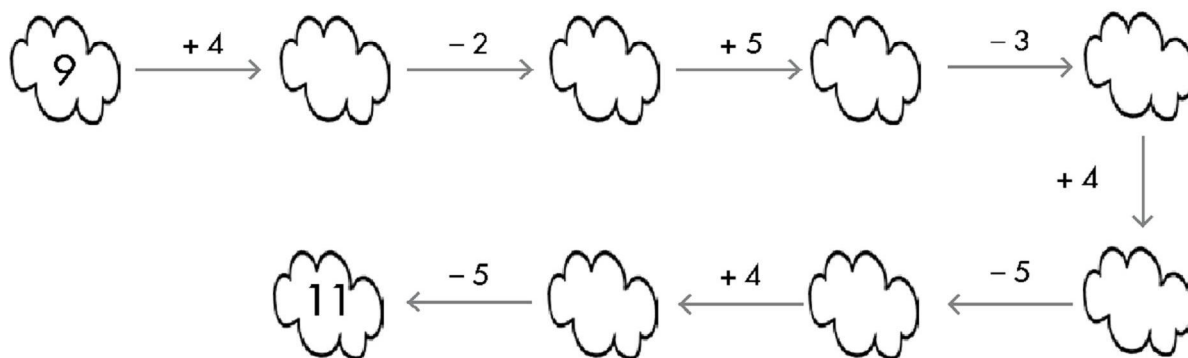
Curso: www.primerodecarlos.blogspot.com Fecha:

- Ordena de menor a mayor y colorea los vagones que tengan números impares.

13 - 91 - 52 - 7 - 24 - 36



- Completa.



- Escribe los números pares del 0 al 99 que tengan 5 decenas.

Nombre y apellidos:

Curso: www.primerodecarlos.blogspot.com Fecha:

- Tacha las operaciones que sobran y escribe la solución.

Miguel ha invitado a 9 amigos a su cumpleaños. Su gemelo Toni ha invitado a 7. ¿Cuántos invitados hay en total?

$7 + 8$

$9 - 7$

$9 + 7$

Hay invitados.

Si habían preparado 28 invitaciones. ¿Cuántas les sobran?






$28 - 9$

$28 - 16$

$28 + 16$

Les sobran invitaciones.

- Escribe en qué casilla está cada dibujo.

5					
4					
3					
2					
1					
	A	B	C	D	E

mariposa

A, 4

rosa

mariposa

trébol

araña